



CONSTRUCTION
INDUSTRY COUNCIL
建造業議會

雲石工（濕掛）

技能測試

模擬筆試試題

This document related to the mock test paper of skilled trade test for Marble Worker (Wet Fixing). Should you require an English version of this document, please contact Hong Kong Construction Industry Trade Testing Centre at 2100 9000.

免責聲明

未經議會的書面許可，任何人士不得翻印或傳播本資料。

儘管議會已盡合理努力以確保本資料所載列資料均屬準確，
惟議會仍鼓勵讀者須在可能的情況下，向其專業顧問尋求適當獨立意見，
並且讀者不應將本資料視作採取任何相關行動之專業意見的替代，
亦不應依賴本資料作所述用途。

查詢

如對本資料有任何查詢，可與香港建造業工藝測試中心聯絡：

香港仔漁光道 95 號

電話：(852) 2100 9000

傳真：(852) 2100 9090

電郵：enquiry@cic.hk

網址：www.cic.hk

© 2020 版權由建造業議會所有。

1. 下列哪一種是個人防止噪音的用品？

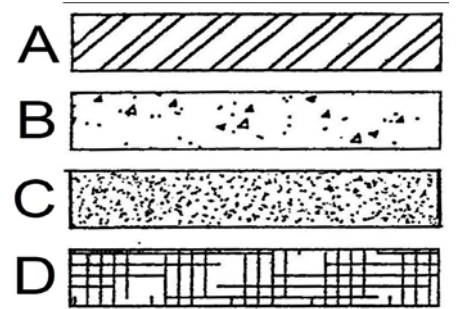
- A. 安全帽
- B. 護眼罩
- C. 護耳罩
- D. 安全帶

2. 雙行棚架上工作台的總闊度不得少於：

- A. 200 毫米
- B. 400 毫米
- C. 600 毫米
- D. 800 毫米


3. 下列哪一個符號代表混凝土？

- A. A
- B. B
- C. C
- D. D



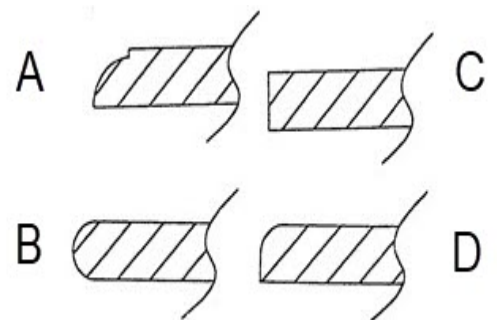
4. 下列哪一個符號代表中線？

- A. A
- B. B
- C. C
- D. D



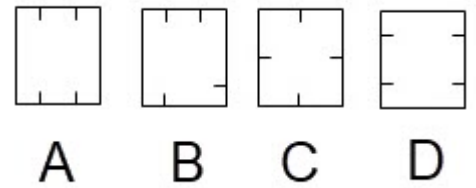
5. 下列哪一圖形屬雲石工件的法國邊？

- A. A
- B. B
- C. C
- D. D



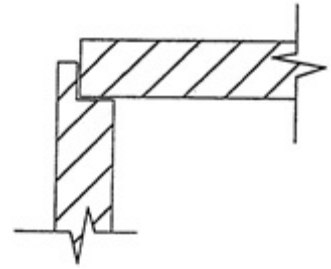
6. 裝嵌牆身落鈎的最佳方法是：

- A. A
- B. B
- C. C
- D. D



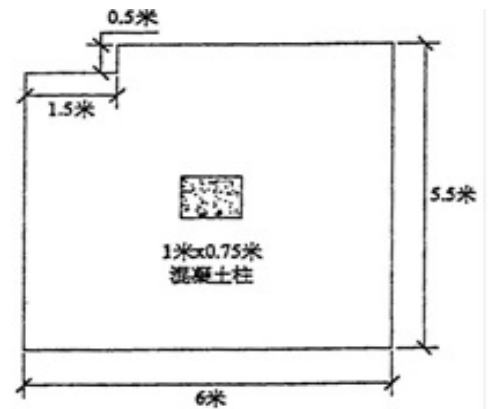
7. 下圖的雲石夾角稱為：

- A. 斜角
- B. 方角
- C. 利角
- D. 雞咀角



8. 下圖地台面的批盪總面積是：

- A. 29.50 米
- B. 30.50 米
- C. 31.50 米
- D. 32.50 米



9. 沙石的特性是：

- A. 堅硬
- B. 光面
- C. 易捲曲
- D. 吸水力強

10. 意大利純黑麻石的特性是：

- A. 脆弱
- B. 易滲色
- C. 易捲曲
- D. 可至鏡面效果

11. 鑽孔在濕牆牆身時，最理想的角度是：
- A. 30°
 - B. 45°
 - C. 60°
 - D. 90°
12. 鑽孔於雲石邊角度須為：
- A. 30°
 - B. 60°
 - C. 90°
 - D. 120°
13. 如何鋪砌地台雲石？
- A. 淋漿
 - B. 落碼
 - C. 落鈎
 - D. 踢腳
14. 要確保水泥沙漿均勻混合，應先將材料反覆乾拌：
- A. 一次
 - B. 三次
 - C. 五次
 - D. 七次
15. 所謂善後工作，包括以下哪一項？
- A. 儘快離開工作範圍
 - B. 清理工具及場地
 - C. 拆除牆面斜角的掛綫
 - D. 按圖則要求分配石材到適當位置

16. 工作時須明確自己的職責，包括：
- A. 我行我素
 - B. 不跟其他同事溝通
 - C. 不肯承擔額外工作
 - D. 了解工作範圍，遵守工作時間及承諾
17. 下列哪一種工具，必須得到勞工處的認可？
- A. 石屎鑽
 - B. 石屎鑽咀
 - C. 石屎鎗
 - D. 石屎鎗釘
18. 搬運重物時，如果提舉姿勢不正確，身體哪一部分容易受傷？
- A. 頸
 - B. 手
 - C. 腰
 - D. 小腿
19. 常用的雲石鏢碟是：
- A. 鋒鋼鏢碟
 - B. 鑽石鋼碟
 - C. 玻璃鏢碟
 - D. 拋光碟
20. 最幼的鋼絲棉型號是：
- A. 0 號
 - B. 2 號
 - C. 4 號
 - D. 5 號