



CONSTRUCTION  
INDUSTRY COUNCIL  
建造業議會

# 雲石工技能測試

## 模擬筆試試題

This document related to the mock test paper of skilled trade test for Marble Worker, should you require an English version of this document, please contact Hong Kong Construction Industry Trade Testing Centre at 2100 9000.

## 免責聲明

未經議會的書面許可，任何人士不得翻印或傳播本資料。

儘管議會已盡合理努力以確保本資料所載列資料均屬準確，  
惟議會仍鼓勵讀者須在可能的情況下，向其專業顧問尋求適當獨立意見，  
並且讀者不應將本資料視作採取任何相關行動之專業意見的替代，  
亦不應依賴本資料作所述用途。

## 查詢

如對本資料有任何查詢，可與香港建造業工藝測試中心聯絡：

香港仔漁光道 95 號

電話：(852) 2100 9000

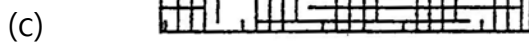

傳真：(852) 2100 9090

電郵：enquiry@cic.hk

網址：www.cic.hk

© 2018 版權由建造業議會所有。

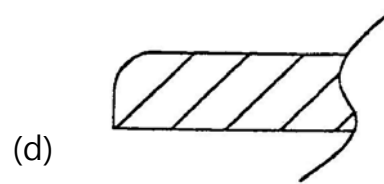
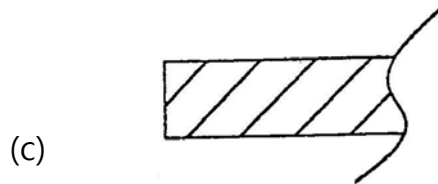
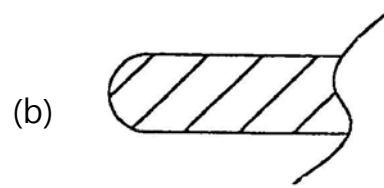
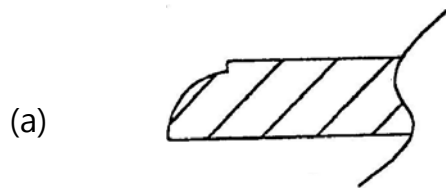
1. 下列那一個符號代表混凝土？



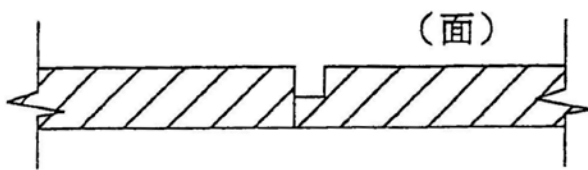
2. 下列那一個符號代表平水？



3. 下列那一圖形屬雲石工件的棋子邊？



4. 下圖的雲石夾縫為：



- (a) 假雞咀
- (b) 圓口口
- (c) 斜口口
- (d) 普通夾縫

5. 下列那項不是雲石的特性？

- (a) 耐水
- (b) 吸水
- (c) 耐酸
- (d) 膨脹及收縮

6. 意大利純黑麻石的特性是：

- (a) 脆弱
- (b) 易滲色
- (c) 易捲曲
- (d) 可至鏡面效果

7. 米黃石屬什麼石種？

- (a) 砂石
- (b) 再造石
- (c) 花崗石（麻石）
- (d) 大理石（雲石）

8. 虎皮紅屬什麼石種？

- (a) 砂石
- (b) 再造石
- (c) 花崗石（麻石）
- (d) 大理石（雲石）

9. 基準面是指：

- (a) 平水尺面
- (b) 地基平水
- (c) 地台平水
- (d) 一個地盤所有平水的根據面

10. 裝嵌較高的牆身雲石時，用甚麼來規準其垂直線？

- (a) 直尺
- (b) 垂球
- (c) 鋼線
- (d) 平水尺

11. 如要準確地量度雲石是否呈正方形否，可用：

- (a) 十字式
- (b) 對角式
- (c) 直拉式
- (d) 橫拉式

12. 一般掛件法（裝空牆）有那幾種方法？

- (a) 焊接
- (b) 灌漿
- (c) 抆泥
- (d) 使用爆炸螺絲

- (a) A 及 B
- (b) B 及 C
- (c) C 及 D
- (d) A 及 D

13. 下列那一種工具用于規準平水？
- (a) 拉尺
  - (b) 角尺
  - (c) 平水尺
  - (d) 木摺尺
14. 常用雲石鑽咀的直徑是：
- (a) 3 毫米 ( 1 分 )
  - (b) 4 毫米 ( 1 ¼分 )
  - (c) 5 毫米 ( 1 ½分 )
  - (d) 6 毫米 ( 2 分 )
15. 手提磨機最常用的磨碟直徑是：
- (a) 100 毫米
  - (b) 200 毫米
  - (c) 300 毫米
  - (d) 400 毫米
16. 掛件法 ( 空牆 ) 除用針塞 ( 鋼針 ) 外，還用：
- (a) 蝴蝶碼
  - (b) 螺旋碼
  - (c) 鋼纜
  - (d) 鐵線

17. 高空工作的定義是指工作位置距離地面：
- (a) 1 米或以上
  - (b) 2 米或以上
  - (c) 3 米或以上
  - (d) 4 米或以上
18. 下列那一項是地盤工人須戴安全帽的原因？
- (a) 外表美觀
  - (b) 抵擋風雨
  - (c) 保護頭部免受傷害
  - (d) 用來識別不同職級的工友
19. 安全鞋的主要作用是：
- (a) 增加步速
  - (b) 防皮膚病
  - (c) 保護腳部
  - (d) 改善儀表
20. 根據守則規定，雙行棚架上工作台的總闊度不得少於：
- (a) 200 毫米
  - (b) 400 毫米
  - (c) 600 毫米
  - (d) 800 毫米